

課題

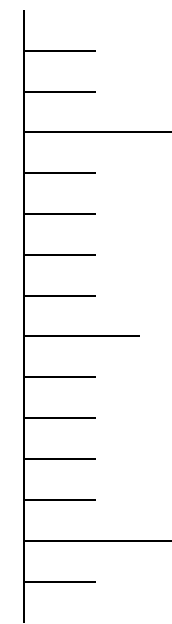
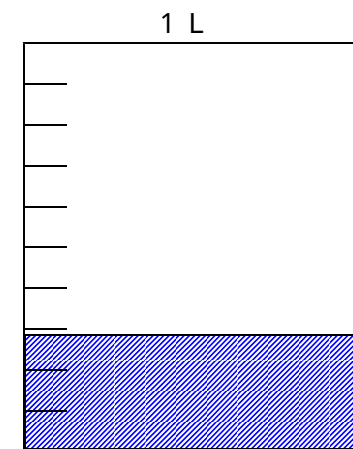

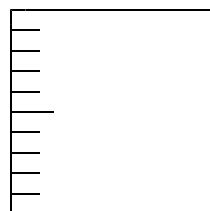
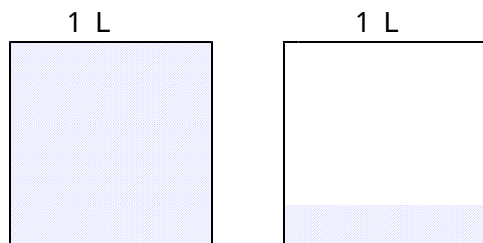
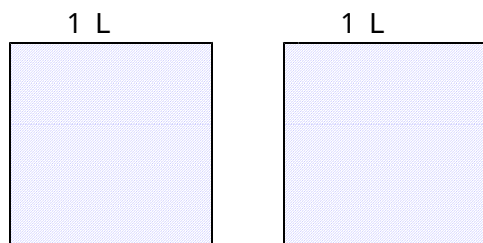
小数の表し方について、3年の時の学習を振り返りながら、新しい表し方について学ぼう！

問題0

小数は、どんな時に使う数かな？3年の時の学習を思い出そう！

問題1

次の水のかさは、何Lでしょうか？



キーポイント

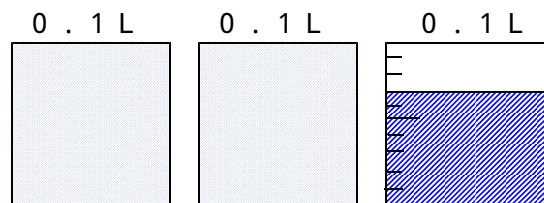
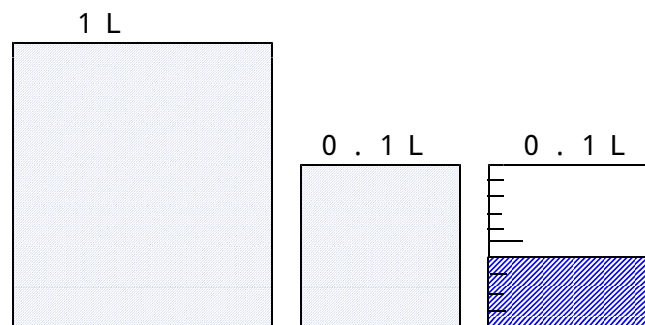
練問 1

次のかさは、それぞれ 0.01 L を何こ集めたかさですか？

0.05 L 0.09 L 0.1 L
(こ) (こ) (こ)

練問 2

次の水のかさは、何 L ですか。



練問 3

ア、イ、ウ、エ、オ、カのめもりが表す長さは何 m ですか。

1.95 m 、 2.06 m を表すめもりに、 をかきましょう。

